



अध्ययन मंत्र™

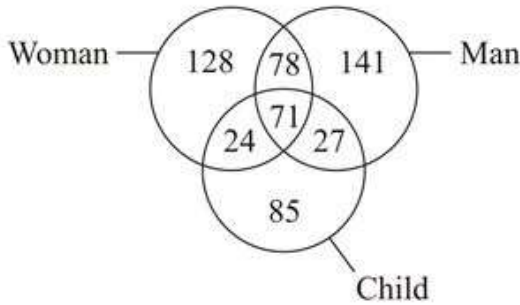
Learning Today... Leading Tomorrow...

Test Date	07/03/2022
Test Time	8:30 AM - 10:30 AM
Subject	Assistant Teacher (Primary)

Section : Mental Ability

Q.1 Based on the given venn diagram, which of the following statement(s) is/are correct?

- I. The number of children who are neither man nor woman is 85.
II. Total number of woman is 311.



- Ans A. Neither I nor II
 B. Both I and II
 C. Only I
 D. Only II

Question ID : 1034352441

Q.2 एक पासे की तीन स्थितियाँ दर्शाई गई है। जब 5 सबसे ऊपर है, तो सबसे नीचे कौन सी संख्या होगी?



- Ans A. 1
 B. 2
 C. 6
 D. 3

Question ID : 1034352446

Q.3 सात व्याख्यान L1, L2, L3, L4, L5, L6 तथा L7 एक ही सप्ताह में सोमवार से रविवार तक सात विभिन्न दिनों पर दिए गए हैं (जरूरी नहीं कि इसी क्रम में हो)। एक ही दिन में दो व्याख्यान नहीं दिए गए हैं। L1 तथा L2 के बीच में तीन व्याख्यान दिए गए हैं। L1, L2 से पहले दिया गया है। L6 शुक्रवार को दिया गया है। L3, L7 से पहले दिया गया है। L4, L6 के बाद दिया गया है। L5 तथा L6 के बीच में दो व्याख्यान दिए गए हैं।

निम्नलिखित में से कौन सा कथन सही है?

I. L7 गुरुवार को कहा गया।

II. L2 तथा L5 के बीच में तीन व्याख्यान कहे गए।

Ans A. ना ही I ना ही II

B. केवल II

C. केवल I

D. I तथा II दोनों

Question ID : 1034352435

Q.4 निम्नलिखित प्रश्न में दी गई श्रृंखला में से लुप्त अंक ज्ञात कीजिए।

23, 28, 56, 73, 199, ?

Ans A. 236

B. 238

C. 256

D. 258

Question ID : 1034352439

Q.5 Point P is 80 metres to the north of point Q. Point R is 100 metres to the east of point Q. Point S is 120 metres to the north of point R. Point S is 120 metres to the east of point T. Point V is 60 metres to the south of point T. How far and in which direction is point P from point V?

Ans A. 20 metres, North-East

B. $20\sqrt{2}$ metres, North-East

C. 20 metres, South-West

D. $20\sqrt{2}$ metres, South-West

Question ID : 1034352443

Q.6 एक विशिष्ट कोड भाषा में, 'IT' को '58' लिखा जाता है, 'SAD' को '48' लिखा जाता है। इस कोड भाषा में 'FISH' का कोड क्या है?

Ans A. 84

B. 92

C. 42

D. 64

Question ID : 1034352432

Q.7 एक अनुक्रम दिया गया है, जिसमें से एक पद गलत है। दिए गए विकल्पों में से उस गलत पद को चुनिए।

EVT, KBN, QHH, WNB, CTV, IAP

Ans A. IAP

B. CTV

C. QHH

D. WNB

Question ID : 1034352428

Q.8 A, B का पिता है। B, C की बहन है। C, D की बहन है। D, E का पुत्र है। यहाँ कितनी औरतें हैं?

- Ans A. 1
 B. 2
 C. 3
 D. 4

Question ID : 1034352433

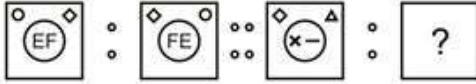
Q.9 दिए गए विकल्पों में से उस संख्या का चयन कीजिए, जो निम्नलिखित श्रेणी में प्रश्न चिह्न (?) के स्थान पर आ सकती है।

1, 3, 5, 9, 21, 37, ?

- Ans A. 117
 B. 172
 C. 127
 D. 171

Question ID : 1034352429

Q.10 निम्नलिखित प्रश्न में दिए गए विकल्पों में से प्रश्न चिह्न (?) के स्थान पर आने वाली आकृति को चुनिए।



Ans

- A.
- B.
- C.
- D.

Question ID : 1034352444

Q.11 निम्नलिखित शब्दों को शब्दकोश में आने वाले क्रम के अनुसार लिखें।

1. Wailer
2. Wader
3. Waking
4. Waling
5. Waggon

- Ans A. 25143
 B. 21534
 C. 25314
 D. 25134

Question ID : 1034352427

Q.12 कौन सी उत्तर आकृति प्रश्न आकृति के प्रतिरूप को पूरा करेगी?

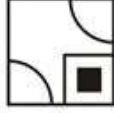


Ans

A.



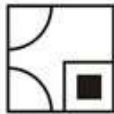
B.



C.



D.



Question ID : 1034352445

Q.13 Seven persons A, B, C, D, E, F and G sit around a circular table facing towards the centre(not necessarily in the same order). Two persons sit between B and G. A sits second to the left of E. C is the neighbour of G. D sits third to the right of B. Which of the following statement is correct?

- I. F sits to the immediate left of D.
II. Two persons sits between G and E.

Ans

A. Both I and II

B. Only II

C. Neither I nor II

D. Only I

Question ID : 1034352434

Q.14 नीचे दिए गए प्रश्न में कुछ कथन और उनके बाद उन कथनों पर आधारित कुछ निष्कर्ष दिए गए हैं। दिए गए कथनों को सही माने, चाहे उनमें सामान्य ज्ञात तथ्यों से भिन्नता हो। सभी निष्कर्ष पढ़ें और फिर निर्धारित करें कि दिए गए कौन से निष्कर्ष, दिए गए कथनों के आधार पर युक्तिसंगत हैं।

कथन:

- I. कुछ P, T हैं।
II. कुछ T, S हैं।
III. कोई भी J, P नहीं हैं।

निष्कर्ष:

- I. कुछ S, J नहीं हैं।
II. कुछ T, J नहीं हैं।
III. कुछ J, T नहीं हैं।

Ans

A. I, II तथा III

B. केवल I

C. केवल II

D. केवल III

Question ID : 1034352437

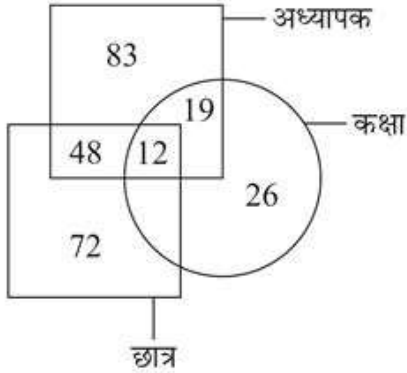
Q.15 निम्नलिखित प्रश्न में दिए गए विकल्पों में से संबंधित अक्षर युग्म को चुनिए।

GSN : DOP :: ?

- Ans A. BRD : XNF
 B. LMP : IIQ
 C. CJL : ZEN
 D. ZQC : WME

Question ID : 1034352431

Q.16 कितने अध्यापक छात्र है?



- Ans A. 143
 B. 60
 C. 12
 D. 48

Question ID : 1034352440

Q.17 नीचे दिए गए प्रश्न में कुछ कथन और उनके बाद उन कथनों पर आधारित कुछ निष्कर्ष दिए गए हैं। दिए गए कथनों को सही माने, चाहे उनमें सामान्य ज्ञात तथ्यों से भिन्नता हो। सभी निष्कर्ष पढ़ें और फिर निर्धारित करें कि दिए गए कौन से निष्कर्ष, दिए गए कथनों के आधार पर युक्तिसंगत हैं।

कथन:

- I. कुछ P, Q हैं।
 II. सभी P, N हैं।

निष्कर्ष:

- I. सभी Q, N हैं।
 II. कुछ P, Q नहीं हैं।

- Ans A. दोनों निष्कर्ष I तथा II अनुसरण करते हैं
 B. केवल निष्कर्ष II अनुसरण करता है
 C. कोई भी निष्कर्ष अनुसरण नहीं करता है
 D. केवल निष्कर्ष I अनुसरण करता है

Question ID : 1034352436

Q.18 A person walks from a point towards south direction. After walking 100 metres, he turns to the left and walks 60 metres. Finally, he turns to the left and walks 20 metres. How far is he now from the starting point?

- Ans A. 120 metres
 B. 60 metres
 C. 100 metres
 D. 80 metres

Question ID : 1034352442

Q.19 निम्नलिखित प्रश्न में दिए गए विकल्पों में से प्रश्न चिन्ह (?) के स्थान पर आने वाली संख्या को चुनिए।

5	14	25	45
8	19	11	39
12	21	41	?

- Ans
- A. 65
 - B. 74
 - C. 75
 - D. 64

Question ID : 1034352438

Q.20 In the following question, select the related words from the given alternatives.

Car : Garage :: Clothes : ?

- Ans
- A. Cellar
 - B. Hanger
 - C. Wardrobe
 - D. Shirt

Question ID : 1034352430

Section : General Awareness

Q.1 निम्नलिखित में से किसे सबसे शक्तिशाली चोल शासक माना जाता था?

- Ans
- A. राजेन्द्र I
 - B. विजयालय
 - C. राजाराज I
 - D. दन्तिदुर्घ

Question ID : 1034352458

Q.2 "आई डू व्हाट आई डू" पुस्तक के लेखक कौन है?

- Ans
- A. सलमान रुश्दी
 - B. शशी थरूर
 - C. रघुराम राजन
 - D. ऊर्जित पटेल

Question ID : 1034352460

Q.3 विश्व तम्बाकू निषेध दिवस प्रत्येक वर्ष _____ को मनाया जाता है।

- Ans
- A. 30 मई
 - B. 30 जून
 - C. 30 जुलाई
 - D. 31 मई

Question ID : 1034352462

Q.4 निम्नलिखित में से कौन सा कथन सही है?

- I. शिव की स्तुति में बनाए गए कंदारिया महादेव मंदिर का निर्माण चंदेल राजवंश के राजा धंगदेव द्वारा 999 में किया गया था।
II. तंजावूर के राजराजेश्वर मंदिर का शिखर, उस समय के मंदिरों में सबसे ऊँचा था।

- Ans A. केवल I
 B. केवल II
 C. ना ही I ना ही II
 D. I तथा II दोनों

Question ID : 1034352459

Q.5 भारत का पहला राज्य कौन सा है जिसने हर घर में छत वर्षाजल संग्रहण ढाँचों का बनाना आवश्यक कर दिया है।

- Ans A. गुजरात
 B. तमिलनाडु
 C. केरल
 D. राजस्थान

Question ID : 1034352455

Q.6 भारत में _____ मैंगनीज अयस्क का सबसे बड़ा उत्पादक राज्य है।

- Ans A. उड़ीसा
 B. राजस्थान
 C. झारखंड
 D. कर्नाटक

Question ID : 1034352454

Q.7 निम्नलिखित में से कौन सा कथन सही है?

- I. रसोई घर के कचरे को कृमि अथवा लाल केंचुओं द्वारा से कंपोस्ट में परिवर्तित करना वर्मोकंपोस्टिंग कहलाता है।
II. रसोई घर के अपशिष्ट सहित पौधों एवं जंतु अपशिष्टों को खाद में परिवर्तित कंपोस्टिंग कहलाता है।

- Ans A. ना ही I ना ही II
 B. केवल I
 C. I तथा II दोनों
 D. केवल II

Question ID : 1034352453

Q.8 निम्नलिखित में से तत्व – परमाणुकता का कौन सा युग्म सही है?

- I. नाइट्रोजन – द्विपरमाणुक
II. सल्फर – बहुपरमाणुक

- Ans A. केवल I
 B. केवल II
 C. ना ही I ना ही II
 D. I तथा II दोनों

Question ID : 1034352452

Q.9 भारतीय संविधान का कौन सा अनुच्छेद संघ की कार्यपालिका शक्ति से संबंधित है?

- Ans A. अनुच्छेद 40
 B. अनुच्छेद 53
 C. अनुच्छेद 54
 D. अनुच्छेद 43

Question ID : 1034352463

Q.10 भारत में, वित्तीय वर्ष 2019-20 में राजस्व घाटा जी.डी.पी. का _____ प्रतिशत था।

- Ans A. 1.4
 B. 4.2
 C. 3.27
 D. 3.2

Question ID : 1034352449

Q.11 खिलजी वंश के ठीक बाद किस वंश ने दिल्ली पर शासन किया?

- Ans A. लोदी वंश
 B. राजपूत वंश
 C. तुगलक वंश
 D. सैयद वंश

Question ID : 1034352457

Q.12 सितंबर 2021 में निम्नलिखित में से किसे G-20 के लिए भारत का शेरपा नियुक्त किया गया?

- Ans A. अर्जुन मुंडा
 B. राजनाथ सिंह
 C. पियूष गोयल
 D. निर्मला सीतारमण

Question ID : 1034352461

Q.13 निम्नलिखित में से कौन सा कथन सही नहीं है?

- I. लैटेराइट मृदा चाय और कॉफी उगाने के लिए उपयोगी होता है।
 II. लैटेराइट मृदा का निर्माण उच्च तापमान तथा भारी वर्षा वाले क्षेत्रों में होता है।

- Ans A. केवल I
 B. ना ही I ना ही II
 C. केवल II
 D. I तथा II दोनों

Question ID : 1034352456

Q.14 भारतीय संविधान का _____ संघ राज्यक्षेत्रों के प्रशासन से संबंधित है।

- Ans A. अनुच्छेद 239
 B. अनुच्छेद 234
 C. अनुच्छेद 235
 D. अनुच्छेद 233

Question ID : 1034352464

Q.15 आगाखान पैलेस भारत के किस राज्य में स्थित है?

- Ans A. पंजाब
 B. उत्तर प्रदेश
 C. तमिलनाडु
 D. महाराष्ट्र

Question ID : 1034352447

Q.16 निम्नलिखित में से कौन सा कथन सही है?
 I. कथक कर्नाटक का एक शास्त्रीय नृत्य है।
 II. कथकली केरल का एक शास्त्रीय नृत्य है।

- Ans A. I तथा II दोनों
 B. ना ही I ना ही II
 C. केवल II
 D. केवल I

Question ID : 1034352448

Q.17 निम्नलिखित में से कौन दो ओलंपिक पदक जीतने वाली पहली भारतीय महिला बन गई है?

- Ans A. साइना नेहवाल
 B. मनिका बत्रा
 C. पी वी सिंधु
 D. हिमा दास

Question ID : 1034352466

Q.18 _____ कोशिका का अपशिवत निपटाने वाला तंत्र है।

- Ans A. लाइसोसोम
 B. माइटोकॉन्ड्रिया
 C. गॉल्जी उपकरण
 D. राइबोसोम

Question ID : 1034352451

Q.19 निम्नलिखित में से कौन सा कथन सही है?

- I. किसानों द्वारा उत्पादन का बाजार में बेचा, गया अंश ही 'विपणित अधिशेष' कहलाता है।
 II. भारी उद्योगों पर नियंत्रण रखने के सरकार के लक्ष्य के अनुसार औद्योगिक नीति प्रस्ताव, 1956 को अंगीकार किया गया।

- Ans A. ना ही I ना ही II
 B. केवल I
 C. केवल II
 D. I तथा II दोनों

Question ID : 1034352450

Q.20 खो-खो की प्रत्येक टीम में खिलाड़ियों की संख्या होती है।

- Ans A. 7
 B. 12
 C. 6
 D. 9

Question ID : 1034352465

Section : Arithmetic Ability

Q.1 यदि X, Y से 40 प्रतिशत अधिक अंक प्राप्त करता है, तो Y के अंक X के अंकों से कितने प्रतिशत कम हैं?

- Ans
- A. 26.57 प्रतिशत
 - B. 27.5 प्रतिशत
 - C. 25.5 प्रतिशत
 - D. 28.57 प्रतिशत

Question ID : 1034352473

Q.2 $\frac{32 - 16 \times 2 + 3}{12 \times 2 - 7 \times 3}$ का मान क्या है?

- Ans
- A. 1
 - B. 0
 - C. 2
 - D. 1.5

Question ID : 1034352467

Q.3 1 से 200 तक कितनी संख्याएँ 9 से विभाज्य हैं?

- Ans
- A. 22
 - B. 23
 - C. 24
 - D. 21

Question ID : 1034352469

Q.4 एक नई मिश्रधातु प्राप्त करने के लिए 60 कि.ग्रा. मिश्रधातु A को 80 कि.ग्रा. मिश्रधातु B के साथ मिलाया जाता है। यदि मिश्रधातु A में जस्ता तथा ताँबा 7 : 5 के अनुपात में है तथा मिश्रधातु B में जस्ता तथा ताँबा 3 : 7 के अनुपात में है, तो नई मिश्रधातु में जस्ते का भार क्या है?

- Ans
- A. 46 कि.ग्रा.
 - B. 64 कि.ग्रा.
 - C. 69 कि.ग्रा.
 - D. 59 कि.ग्रा.

Question ID : 1034352477

Q.5 एक रेलगाड़ी मुम्बई से 3:00 अपराह्न पर शुरू होती है तथा 35 कि.मी./घंटा की गति से अहमदाबाद की ओर चलती है। दूसरी रेलगाड़ी अहमदाबाद से 5:00 अपराह्न पर शुरू होती है तथा 45 कि.मी./घंटा की गति से मुम्बई की ओर चलती है। यदि मुम्बई तथा अहमदाबाद के बीच की दूरी 390 कि.मी. है, तो दोनों रेलगाड़ी कितने बजे मिलेंगी?

- Ans
- A. 10:00 अपराह्न
 - B. 9:00 अपराह्न
 - C. 11:00 अपराह्न
 - D. 10:30 अपराह्न

Question ID : 1034352479

Q.6 दो कार एक बिन्दु से एक ही समय पर चलना आरंभ करती है तथा एक दूसरे से समकोण दिशा में दो अलग-अलग सड़कों पर चलती है। उनकी गति क्रमशः 18 कि.मी./घंटा तथा 72 कि.मी./घंटा है। 6 सेकंड के पश्चात उनके बीच कितनी दूरी होगी?

- Ans A. $24\sqrt{13}$ मीटर
 B. $40\sqrt{11}$ मीटर
 C. $30\sqrt{17}$ मीटर
 D. $30\sqrt{7}$ मीटर

Question ID : 1034352480

Q.7 एक वर्ग का परिमाप उसकी भुजा से 36 से.मी. अधिक है। वर्ग का क्षेत्रफल क्या है?

- Ans A. 169 से.मी.²
 B. 256 से.मी.²
 C. 324 से.मी.²
 D. 144 से.मी.²

Question ID : 1034352482

Q.8 यदि $(m + n)$ का 15 प्रतिशत $(m - n)$ के 65 प्रतिशत के बराबर है, तो m, n का कितना प्रतिशत है?

- Ans A. 150 प्रतिशत
 B. 160 प्रतिशत
 C. 140 प्रतिशत
 D. 60 प्रतिशत

Question ID : 1034352474

Q.9 19 संख्याओं का औसत 37 है। यदि हम प्रत्येक संख्या में एक संख्या 'B' को जोड़ देते हैं, तो औसत 59 हो जाता है। B का मान क्या है?

- Ans A. 21
 B. 22
 C. 28
 D. 25

Question ID : 1034352472

Q.10 यदि $\frac{(10.5 + 1.45)^2 - (10.5 - 1.45)^2}{10.5 \times 1.45} = M$ है, तो \sqrt{M} का मान क्या है?

- Ans A. 1
 B. 4
 C. 2
 D. 16

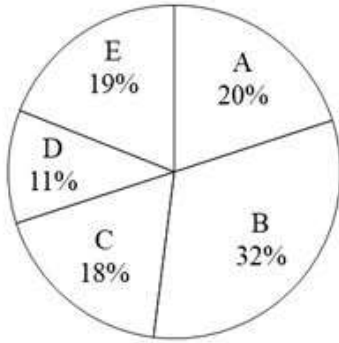
Question ID : 1034352468

Q.11 रिषभ किसी कार्य के $\frac{4}{5}$ भाग को 16 दिनों में पूरा कर सकता है। रानी, रिषभ से 2 गुना कार्यकुशल है। रानी अकेले उसी कार्य को कितने दिन में पूरा करेगी?

- Ans A. 11 दिन
 B. 10 दिन
 C. 40 दिन
 D. 12 दिन

Question ID : 1034352481

Q.12 नीचे दिया गया वृत्त चित्र एक वर्ष में पाँच शहरों की जनसंख्या को दर्शाता है। इन सभी पाँच शहरों की कुल जनसंख्या 12,000 है। एक विशिष्ट शहर की जनसंख्या को इन सभी पाँच शहरों की कुल जनसंख्या के प्रतिशत के रूप में दर्शाया गया है।



L1 = D तथा E की औसत जनसंख्या का मान
L2 = A, B तथा C की कुल जनसंख्या का मान
(L2 - L1) का मान क्या है?

- Ans
- A. 5400
 - B. 6600
 - C. 7200
 - D. 8400

Question ID : 1034352484

Q.13 कई पुरुष एक होटल में गए तथा प्रत्येक ने उतने ही रुपये खर्च किए जितने पुरुष थे। यदि खर्च किया गया धन 17424 रुपये है, तो पुरुषों की संख्या क्या है?

- Ans
- A. 122
 - B. 132
 - C. 92
 - D. 102

Question ID : 1034352471

Q.14 नीचे दिया गया दण्ड चित्र पाँच वर्षों में दो कंपनियों की आय को दर्शाता है।



निम्नलिखित में से कौन सा कथन सही है?

- I. वर्ष Y1 में A की आय, वर्ष Y2 में B की आय का 75 प्रतिशत है।
- II. सभी पाँच वर्षों में A तथा B की आय के बीच का अंतर 200 है।

- Ans
- A. ना ही I ना ही II
 - B. I तथा II दोनों
 - C. केवल II
 - D. केवल I

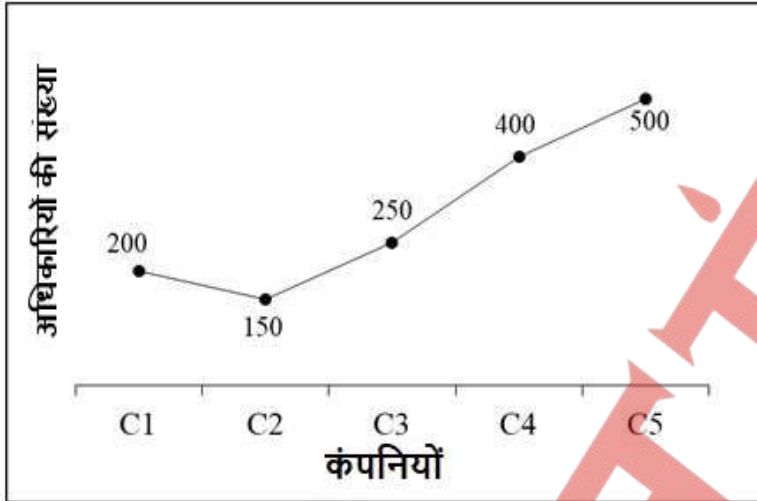
Question ID : 1034352486

Q.15 एक व्यक्ति द्वारा 15 वर्षों में मूलधन पर प्राप्त किया गया साधारण ब्याज मूलधन का 180 प्रतिशत है। ब्याज की वार्षिक दर क्या है?

- Ans
- A. 6 प्रतिशत
 - B. 24 प्रतिशत
 - C. 12 प्रतिशत
 - D. 18 प्रतिशत

Question ID : 1034352478

Q.16 नीचे दिया गया रेखा चित्र पाँच कंपनियों में काम करने वाले अधिकारियों की संख्या को दर्शाता है।



C1 में काम करने वाले अधिकारियों की संख्या, C5 में काम करने वाले अधिकारियों की संख्या का कितना प्रतिशत है?

- Ans
- A. 10 प्रतिशत
 - B. 20 प्रतिशत
 - C. 25 प्रतिशत
 - D. 40 प्रतिशत

Question ID : 1034352485

Q.17 यदि $A : B : C = 2 : 3 : 6$ है, तो $(A/B) : (B/C) : (C/A)$ का मान क्या होगा?

- Ans
- A. 4 : 3 : 18
 - B. 2 : 3 : 7
 - C. 3 : 3 : 7
 - D. 2 : 3 : 8

Question ID : 1034352476

Q.18 वह सबसे बड़ी संख्या क्या है जो 76, 310 तथा 463 को विभाजित करें, जिससे प्रत्येक स्थिति में शेषफल 4 बचे?

- Ans
- A. 6
 - B. 3
 - C. 9
 - D. 12

Question ID : 1034352470

Q.19 एक ठोस बेलन को पिघलाकर ठोस घन बनाए गए हैं। बेलन के आधार की त्रिज्या 44 से.मी. है तथा इसकी ऊँचाई 14 से.मी. है। यदि घन की भुजा 11 से.मी. है, तो कितना घन बनेंगे?

- Ans
- A. 128
 - B. 32
 - C. 256
 - D. 64

Question ID : 1034352483

Q.20 एक दूध व्यापारी 50 रुपये प्रति लीटर की दर से 40 लीटर दूध खरीदता है तथा उसमें 12 लीटर पानी मिला देता है (पानी मुफ्त है)। यदि वह इस मिश्रण को 40 रुपये प्रति लीटर की दर से बेचता है, तो लाभ प्रतिशत क्या है?

- Ans
- A. 4 प्रतिशत
 - B. 5 प्रतिशत
 - C. 10 प्रतिशत
 - D. 6.66 प्रतिशत

Question ID : 1034352475

Section : General English

Q.1 In the given question, four words are given out of which one word is correctly spelt. Choose the correctly spelt word.

- Ans
- A. Eccgarate
 - B. Exajarate
 - C. Exajjarate
 - D. Exaggerate

Question ID : 1034352498

Q.2 Select the most appropriate option to substitute the underlined segment in the given sentence. If no substitution is required, select 'No improvement' as your answer.

Despite being tried their best, they were not able to reach the goal.

- Ans
- A. Despite their best trying
 - B. Despite of his best
 - C. Despite trying their best
 - D. No improvement

Question ID : 1034352489

Q.3 Find the part of the given sentence that has an error in it. If there is no error, choose 'No error'.

This cycle is the (1)/ most unique thing (2)/ I have ever seen (3)/ No error (4)

- Ans
- A. 4
 - B. 3
 - C. 2
 - D. 1

Question ID : 1034352487

Q.4 A sentence has been given with a blank to be filled with an appropriate word. Choose the correct alternative.

_____ I go to the toilet please?

- Ans
- A. Will
 - B. Should
 - C. Have
 - D. May

Question ID : 1034352491

Q.5 Choose the word that is opposite in meaning to the given word.

Titular

- Ans
- A. Ostensive
 - B. Real
 - C. Specious
 - D. Cosmetic

Question ID : 1034352496

Q.6 In the given question, four words are given out of which one word is correctly spelt. Choose the correctly spelt word.

- Ans
- A. Rythim
 - B. Rhythm
 - C. Rythem
 - D. Rhithym

Question ID : 1034352497

Q.7 A sentence has been given with a blank to be filled with an appropriate word. Choose the correct alternative.

The seminar was a _____ because the members didn't learn anything.

- Ans
- A. disappointment
 - B. regret
 - C. discontent
 - D. dissatisfaction

Question ID : 1034352492

Q.8 Choose the word that can substitute the given sentence.

A closed meeting of a group of persons belonging to the same political party

- Ans
- A. Clique
 - B. Caucus
 - C. Brace
 - D. Coterie

Question ID : 1034352501

Q.9 Select the most appropriate option to substitute the underlined segment in the given sentence. If no substitution is required, select 'No improvement' as your answer.

If he has begun earlier, he might had succeed in finishing the project before deadline.

- Ans A. he begun early, he should have succeed
 B. had begun earlier, he might have succeed
 C. No improvement
 D. begin earlier, he might has succeed

Question ID : 1034352490

Q.10 Choose the word that means the same as the given word.

Bashful

- Ans A. Coward
 B. Shy
 C. Garrulous
 D. Expressive

Question ID : 1034352495

Q.11 In the following question, out of the given four alternatives, select the alternative which best expresses the meaning of the Idiom/Phrase.

To cut the Gordian knot

- Ans A. To solve the difficulty
 B. To avoid somebody
 C. To renew a relation
 D. To marry

Question ID : 1034352500

Q.12 In the following question, out of the given four alternatives, select the alternative which best expresses the meaning of the Idiom/Phrase.

Be on the bread line

- Ans A. To be very poor
 B. A welfare state
 C. To bake a fresh batch of bread
 D. To stand in line for handouts

Question ID : 1034352499

Q.13 Find the part of the given sentence that has an error in it. If there is no error, choose 'No error'.

The government must invest directly (1)/ in assorted projects that (2)/will crowd in private investment (3)/. No error (4)

- Ans A. 1
 B. 4
 C. 2
 D. 3

Question ID : 1034352488

Q.14 The question below consists of a set of labeled sentences. Out of the four options given, select the most logical order of the sentences to form a coherent paragraph.
P. A breakfast using plant-based bacon substitutes and vegetarian sausage would reduce its carbon footprint by 51 percent.
Q. An average vegetarian sausage has about a quarter of the impact of a standard pork sausage.
R. This makes it an easy option to significantly reduce the breakfast's environmental impact without dramatically affecting flavour.
S. This change alone would reduce the breakfast's footprint by 25 percent.

- Ans A. QPRS
 B. SRPQ
 C. QSPR
 D. PQRS

Question ID : 1034352494

Q.15 Rearrange the parts of the sentence in correct order.
The information gleaned
P. both the movement and the musculature of
Q. living animal species help scientists model
R. how non-avian dinosaurs may have moved
S. from fossil bones along with observations of

- Ans A. QRPS
 B. SPQR
 C. RQPS
 D. PSQR

Question ID : 1034352493

Comprehension:

Read the following information carefully and answer the given questions.

James Hogg defied categorisation. A prolific poet, songwriter, playwright, novelist, short story writer and parodist, he wrote with equal skill in Scots and English. Labelled as the Ettrick Shepherd, the former Borders farmhand, whose life spanned the 18th and 19th centuries, befriended many of the great writers of his day, including Walter Scott, John Galt and Allan Cunningham.

Even though he was celebrated off and on in his own lifetime, some details of the author's life remain unclear. Records place his baptism on December 9, 1770. But Hogg long believed he was born in 1772, on January 25 – Burns' Night no less. This complicates attempts to commemorate his 250th birthday, unless we embrace his fantastical worldview. Fiction mattered to him more than fact. Besides, Hogg's sestercentennial will inevitably be overshadowed by Scott's own such celebration on August 15, 2021.

Despite lacking in formal education, Hogg never lacked in confidence. The Poetic Mirror, or The Living Bards of Britain (1816) purports to be a collection of the leading poets of the age (Hogg included). But actually Hogg, the editor, fabricated the works under the guise of big-name writers. There are moody romances after Byron, mystical musings in the style of Coleridge and ponderous poems for Wordsworth.

Aside from mimicking medleys, Hogg's own body of work is made up of mountains of bits and pieces – and must be enjoyed on those terms. Seeking conclusions or definitive statements will only frustrate. Tales can drift off into fragments of poetry both familiar and new. Within stories he flips perspectives with little warning.

Presented as a found document, Hogg's best work, The Private Memoirs and Confessions of a Justified Sinner (1824) is deliberately left with holes. Dark, humorous, violent, sweet, light, weird, wild, celebratory and cruel, the book has many tones, often all at once.

It's not enough to call Hogg an experimental writer ahead of his time or a genre hopper who challenged the conventions of his day. And he was much more than a born storyteller.

SubQuestion No : 16

Q.16 What is the synonym of the word- 'embrace' as used in the passage?

- Ans A. Embarrass
 B. Enwrap
 C. Persuade
 D. Uncover

Question ID : 1034352507

Comprehension:

Read the following information carefully and answer the given questions.

James Hogg defied categorisation. A prolific poet, songwriter, playwright, novelist, short story writer and parodist, he wrote with equal skill in Scots and English. Labelled as the Ettrick Shepherd, the former Borders farmhand, whose life spanned the 18th and 19th centuries, befriended many of the great writers of his day, including Walter Scott, John Galt and Allan Cunningham.

Even though he was celebrated off and on in his own lifetime, some details of the author's life remain unclear. Records place his baptism on December 9, 1770. But Hogg long believed he was born in 1772, on January 25 – Burns' Night no less. This complicates attempts to commemorate his 250th birthday, unless we embrace his fantastical worldview. Fiction mattered to him more than fact. Besides, Hogg's sescentennial will inevitably be overshadowed by Scott's own such celebration on August 15, 2021.

Despite lacking in formal education, Hogg never lacked in confidence. The Poetic Mirror, or The Living Bards of Britain (1816) purports to be a collection of the leading poets of the age (Hogg included). But actually Hogg, the editor, fabricated the works under the guise of big-name writers. There are moody romances after Byron, mystical musings in the style of Coleridge and ponderous poems for Wordsworth.

Aside from mimicking medleys, Hogg's own body of work is made up of mountains of bits and pieces – and must be enjoyed on those terms. Seeking conclusions or definitive statements will only frustrate. Tales can drift off into fragments of poetry both familiar and new. Within stories he flips perspectives with little warning.

Presented as a found document, Hogg's best work, The Private Memoirs and Confessions of a Justified Sinner (1824) is deliberately left with holes. Dark, humorous, violent, sweet, light, weird, wild, celebratory and cruel, the book has many tones, often all at once.

It's not enough to call Hogg an experimental writer ahead of his time or a genre hopper who challenged the conventions of his day. And he was much more than a born storyteller.

SubQuestion No : 17

Q.17 Which of the following professions does not define James Hogg?

- Ans**
- A. Songwriter
 - B. Director
 - C. Novelist
 - D. Parodist

Question ID : 1034352506

Comprehension:

Read the following information carefully and answer the given questions.

James Hogg defied categorisation. A prolific poet, songwriter, playwright, novelist, short story writer and parodist, he wrote with equal skill in Scots and English. Labelled as the Ettrick Shepherd, the former Borders farmhand, whose life spanned the 18th and 19th centuries, befriended many of the great writers of his day, including Walter Scott, John Galt and Allan Cunningham.

Even though he was celebrated off and on in his own lifetime, some details of the author's life remain unclear. Records place his baptism on December 9, 1770. But Hogg long believed he was born in 1772, on January 25 – Burns' Night no less. This complicates attempts to commemorate his 250th birthday, unless we embrace his fantastical worldview. Fiction mattered to him more than fact. Besides, Hogg's sescentennial will inevitably be overshadowed by Scott's own such celebration on August 15, 2021.

Despite lacking in formal education, Hogg never lacked in confidence. The Poetic Mirror, or The Living Bards of Britain (1816) purports to be a collection of the leading poets of the age (Hogg included). But actually Hogg, the editor, fabricated the works under the guise of big-name writers. There are moody romances after Byron, mystical musings in the style of Coleridge and ponderous poems for Wordsworth.

Aside from mimicking medleys, Hogg's own body of work is made up of mountains of bits and pieces – and must be enjoyed on those terms. Seeking conclusions or definitive statements will only frustrate. Tales can drift off into fragments of poetry both familiar and new. Within stories he flips perspectives with little warning.

Presented as a found document, Hogg's best work, The Private Memoirs and Confessions of a Justified Sinner (1824) is deliberately left with holes. Dark, humorous, violent, sweet, light, weird, wild, celebratory and cruel, the book has many tones, often all at once.

It's not enough to call Hogg an experimental writer ahead of his time or a genre hopper who challenged the conventions of his day. And he was much more than a born storyteller.

SubQuestion No : 18

Q.18 Which of the following works of Hogg is deliberately left with holes?

- Ans** A. The Private Memoirs and Confessions of a Justified Sinner
 B. The Poetic Mirror
 C. The Living Bards of Britain
 D. Mimicking medleys

Question ID : 1034352503

Comprehension:

Read the following information carefully and answer the given questions.

James Hogg defied categorisation. A prolific poet, songwriter, playwright, novelist, short story writer and parodist, he wrote with equal skill in Scots and English. Labelled as the Ettrick Shepherd, the former Borders farmhand, whose life spanned the 18th and 19th centuries, befriended many of the great writers of his day, including Walter Scott, John Galt and Allan Cunningham.

Even though he was celebrated off and on in his own lifetime, some details of the author's life remain unclear. Records place his baptism on December 9, 1770. But Hogg long believed he was born in 1772, on January 25 – Burns' Night no less. This complicates attempts to commemorate his 250th birthday, unless we embrace his fantastical worldview. Fiction mattered to him more than fact. Besides, Hogg's sestercentennial will inevitably be overshadowed by Scott's own such celebration on August 15, 2021.

Despite lacking in formal education, Hogg never lacked in confidence. The Poetic Mirror, or The Living Bards of Britain (1816) purports to be a collection of the leading poets of the age (Hogg included). But actually Hogg, the editor, fabricated the works under the guise of big-name writers. There are moody romances after Byron, mystical musings in the style of Coleridge and ponderous poems for Wordsworth.

Aside from mimicking medleys, Hogg's own body of work is made up of mountains of bits and pieces – and must be enjoyed on those terms. Seeking conclusions or definitive statements will only frustrate. Tales can drift off into fragments of poetry both familiar and new. Within stories he flips perspectives with little warning.

Presented as a found document, Hogg's best work, The Private Memoirs and Confessions of a Justified Sinner (1824) is deliberately left with holes. Dark, humorous, violent, sweet, light, weird, wild, celebratory and cruel, the book has many tones, often all at once.

It's not enough to call Hogg an experimental writer ahead of his time or a genre hopper who challenged the conventions of his day. And he was much more than a born storyteller.

SubQuestion No : 19

Q.19 According to the given passage, which of the following statements is incorrect about James Hogg?

- Ans** A. Fact mattered to him more than fiction.
- B. He lacked formal education.
- C. He was labelled as the Ettrick Shepherd.
- D. He wrote with equal skill in Scots and English.

Question ID : 1034352504

Comprehension:

Read the following information carefully and answer the given questions.

James Hogg defied categorisation. A prolific poet, songwriter, playwright, novelist, short story writer and parodist, he wrote with equal skill in Scots and English. Labelled as the Ettrick Shepherd, the former Borders farmhand, whose life spanned the 18th and 19th centuries, befriended many of the great writers of his day, including Walter Scott, John Galt and Allan Cunningham.

Even though he was celebrated off and on in his own lifetime, some details of the author's life remain unclear. Records place his baptism on December 9, 1770. But Hogg long believed he was born in 1772, on January 25 – Burns' Night no less. This complicates attempts to commemorate his 250th birthday, unless we embrace his fantastical worldview. Fiction mattered to him more than fact. Besides, Hogg's sestercentennial will inevitably be overshadowed by Scott's own such celebration on August 15, 2021.

Despite lacking in formal education, Hogg never lacked in confidence. The Poetic Mirror, or The Living Bards of Britain (1816) purports to be a collection of the leading poets of the age (Hogg included). But actually Hogg, the editor, fabricated the works under the guise of big-name writers. There are moody romances after Byron, mystical musings in the style of Coleridge and ponderous poems for Wordsworth.

Aside from mimicking medleys, Hogg's own body of work is made up of mountains of bits and pieces – and must be enjoyed on those terms. Seeking conclusions or definitive statements will only frustrate. Tales can drift off into fragments of poetry both familiar and new. Within stories he flips perspectives with little warning.

Presented as a found document, Hogg's best work, The Private Memoirs and Confessions of a Justified Sinner (1824) is deliberately left with holes. Dark, humorous, violent, sweet, light, weird, wild, celebratory and cruel, the book has many tones, often all at once.

It's not enough to call Hogg an experimental writer ahead of his time or a genre hopper who challenged the conventions of his day. And he was much more than a born storyteller.

SubQuestion No : 20

Q.20 Why it was complicated to commemorate Hogg's 250th birthday?

- Ans**
- A. Hogg never shared details regarding his birthday in the past.
 - B. Most of the work of Hogg is unknown so there is an ambiguity.
 - C. After he was blamed to practice plagiarism, nobody remembered him.
 - D. According to records Hogg baptism took place in 1770, but he believed he was born in 1772.

Question ID : 1034352505

Section : General Hindi

Q.1 दिए गए वाक्य में उपयुक्त शब्द का चयन करके रिक्त स्थान की पूर्ति कीजिए।

मेहनत ही _____ है।

- Ans**
- A. मृत्यु
 - B. परिश्रम
 - C. अभिसाप
 - D. जीवन

Question ID : 1034352513

Q.2 निम्नलिखित वाक्यों में से संयुक्त वाक्य ज्ञात कीजिए।

- Ans**
- A. उसने झूठी गवाही न दी होती तो राम जेल से बाहर होता।
 - B. झूठी गवाही न देने के कारण राम जेल से बाहर है।
 - C. राम जेल में है क्योंकि उसने झूठी गवाही दी थी।
 - D. यदि वह झूठी गवाही नहीं देता तब राम जेल से बाहर होता।

Question ID : 1034352518

Q.3 दिए गए वाक्य के लिए उचित विराम चिन्ह का चयन कीजिए।

मोहन घर आया थोड़ी देर रूका और चला गया।

- Ans
- A. ?
 - B. :
 - C. ,
 - D. ;

Question ID : 1034352520

Q.4 दिए गए शब्द युग्म का सही शब्द युग्म ज्ञात कीजिए।

कुजन : कूजन

- Ans
- A. निपुणता : बुरा
 - B. पक्षियों की चहचहाहट : निपुणता
 - C. दुष्ट : पक्षियों की चहचहाहट
 - D. कुँआ : दुष्ट

Question ID : 1034352514

Q.5 दिए गए शब्द की संधि विच्छेद ज्ञात कीजिए।

वहिर्मुख

- Ans
- A. बहिः + मुख
 - B. बरि + मुख
 - C. बहीः + मुख
 - D. बहः + मुख

Question ID : 1034352510

Q.6 निम्नलिखित में से पूर्ण विराम चिन्ह की पहचान कीजिए।

- Ans
- A. ?
 - B. ;
 - C. :
 - D. |

Question ID : 1034352519

Q.7 दिए गए शब्द का विलोम शब्द ज्ञात कीजिए।

विमुख

- Ans
- A. अमुख
 - B. प्रमुख
 - C. उन्मुख
 - D. दिमुख

Question ID : 1034352512

Q.8 निम्नलिखित प्रश्न में, दिए गए चार विकल्पों में से, उस विकल्प का चयन करें जो दिए गए मुहावरे के अर्थ को सर्वश्रेष्ठ रूप से व्यक्त करता है।

अँधेर खाता होना

- Ans A. उपदेश देना
 B. प्रकृति और नियम के विरुद्ध कार्य करना
 C. नियम बनाना
 D. जिद्दी बनना

Question ID : 1034352521

Q.9 दिए गए शब्द का लिंग ज्ञात कीजिए।

शीशम

- Ans A. कारक
 B. पुल्लिंग
 C. स्त्रीलिंग
 D. सहायक क्रिया

Question ID : 1034352515

Q.10 दिए गए वाक्य में अव्यय ज्ञात कीजिए।

जल्दी चलो ताकि समय पर पहुँच जाए।

- Ans A. समुच्चयबोधक
 B. क्रिया-विशेषण
 C. संबंधबोधक
 D. विस्मयादिबोधक

Question ID : 1034352509

Q.11 निम्नलिखित वाक्यों में से त्रुटि वाले वाक्य की पहचान कीजिए।

- Ans A. राम घर जाता है।
 B. रामा घर को जाती है।
 C. राधा बाजार जाती है।
 D. राधिका पुस्तक पढ़ रही है।

Question ID : 1034352516

Q.12 निम्नलिखित प्रश्न में, दिए गए चार विकल्पों में से, उस विकल्प का चयन करें जो दिए गए मुहावरे के अर्थ को सर्वश्रेष्ठ रूप से व्यक्त करता है।

पंजे में आना

- Ans A. झपट्टा मारना
 B. अधिकार में आना, बस में आना
 C. अभिमान करना
 D. पंजा मारना

Question ID : 1034352522

Q.13 निम्नलिखित शब्दों में से भाववाचक संज्ञा ज्ञात कीजिए।

- Ans A. पुस्तक
 B. शेर
 C. वाराणसी
 D. सत्य

Question ID : 1034352508

Q.14 निम्नलिखित वाक्यों में से सरल वाक्य ज्ञात कीजिए।

- Ans A. ठंड बहुत ज्यादा थी इसलिए मैं बाहर नहीं गया।
 B. ठंड बहुत ज्यादा होने के कारण मैं बाहर नहीं गया।
 C. जब ठंड बहुत ज्यादा थी तब मैं बाहर नहीं गया।
 D. यदि ठंड ज्यादा होती तो मैं बाहर नहीं जाता।

Question ID : 1034352517

Q.15 दिए गए शब्द का पर्यायवाची शब्द ज्ञात कीजिए।

अंकुश

- Ans A. पाबंदी
 B. दर्प
 C. अंश
 D. हरि

Question ID : 1034352511

Comprehension:

एक गद्यांश दिया गया है। गद्यांश के आधार पर पाँच प्रश्न दिए गए हैं। गद्यांश को ध्यानपूर्वक पढ़ें तथा प्रत्येक प्रश्न के चार विकल्पों में से सही विकल्प चुनें।

जीवन में खेलों का बहुत महत्व है। खेलों से शरीर स्वस्थ और निरोग बनता है। इनके बिना जीवन में नीरसता उत्पन्न हो जाती है।

खेल कई प्रकार के होते हैं। कुछ खेल खुले वातावरण में खेले जाते हैं, तो कई खेल कमरे के अंदर बैठे-बैठे भी खेले जा सकते हैं। लेकिन जो खेल खुले मैदानों में खेले जाते हैं, उनसे हमें कई प्रकार के शारीरिक और मानसिक लाभ मिलते हैं। खुले मैदानों में खेले जाने वाले इन खेलों से मन को प्रोत्साहन और शरीर को स्फूर्ति मिलती है। हॉकी बहुत ही पुराना खेल है, जो आज एक अंतर्राष्ट्रीय खेल के रूप में प्रसिद्ध है। ओलम्पिक में सर्वप्रथम यह खेल सन् 1908 में खेला गया था।

भारत में हॉकी बहुत ही लोकप्रिय है और हॉकी हमारे भारत का राष्ट्रीय खेल है। भारत सर्वप्रथम सन् 1928 में ओलंपिक में पहुंचा था और सन् 1928 से 1956 तक हॉकी के खेल में भारत ने हर ओलंपिक में लगातार 6 स्वर्ण पदक जीते। इस समय को हॉकी के इतिहास में स्वर्ण काल रूप में जाना जाता है। इस खेल में भारतीय खिलाड़ियों ने अपना इतना अच्छा प्रदर्शन दिखाया कि यह हमारा राष्ट्रीय खेल बन गया। भारतीय खिलाड़ी 'मेजर ध्यानचंद' ने हॉकी में काफी नाम कमाया।

इसमें दो टीम होती है और हर टीम में 11-11 खिलाड़ी होते हैं। इस खेल को खेलने के लिए हमें एक हॉकी स्टिक और एक गेंद की जरूरत होती है। इस खेल में मैदान का आकार 92 मीटर लंबा और 52 से 56 मीटर चौड़ा होता है, दोनों टीमों के लिए इस मैदान को दो बराबर भागों में बाँट दिया जाता है। यह कुल 60 मिनट का खेल होता है।

SubQuestion No : 16

Q.16 दिए गए शब्द का पर्यायवाची ज्ञात कीजिए।
स्वर्ण

- Ans A. सोना
 B. काला
 C. चाँदी
 D. तांबा

Question ID : 1034352525

Comprehension:

एक गद्यांश दिया गया है। गद्यांश के आधार पर पाँच प्रश्न दिए गए हैं। गद्यांश को ध्यानपूर्वक पढ़ें तथा प्रत्येक प्रश्न के चार विकल्पों में से सही विकल्प चुने।

जीवन में खेलों का बहुत महत्व है। खेलों से शरीर स्वस्थ और निरोग बनता है। इनके बिना जीवन में नीरसता उत्पन्न हो जाती है।

खेल कई प्रकार के होते हैं। कुछ खेल खुले वातावरण में खेले जाते हैं, तो कई खेल कमरे के अंदर बैठे-बैठे भी खेले जा सकते हैं। लेकिन जो खेल खुले मैदानों में खेले जाते हैं, उनसे हमें कई प्रकार के शारीरिक और मानसिक लाभ मिलते हैं। खुले मैदानों में खेले जाने वाले इन खेलों से मन को प्रोत्साहन और शरीर को स्फूर्ति मिलती है। हॉकी बहुत ही पुराना खेल है, जो आज एक अंतर्राष्ट्रीय खेल के रूप में प्रसिद्ध है। ओलम्पिक में सर्वप्रथम यह खेल सन् 1908 में खेला गया था।

भारत में हॉकी बहुत ही लोकप्रिय है और हॉकी हमारे भारत का राष्ट्रीय खेल है। भारत सर्वप्रथम सन् 1928 में ओलंपिक में पहुंचा था और सन् 1928 से 1956 तक हॉकी के खेल में भारत ने हर ओलंपिक में लगातार 6 स्वर्ण पदक जीते। इस समय को हॉकी के इतिहास में स्वर्ण काल रूप में जाना जाता है। इस खेल में भारतीय खिलाड़ियों ने अपना इतना अच्छा प्रदर्शन दिखाया कि यह हमारा राष्ट्रीय खेल बन गया। भारतीय खिलाड़ी 'मेजर ध्यानचंद' ने हॉकी में काफी नाम कमाया।

इसमें दो टीम होती है और हर टीम में 11-11 खिलाड़ी होते हैं। इस खेल को खेलने के लिए हमें एक हॉकी स्टिक और एक गेंद की ज़रूरत होती है। इस खेल में मैदान का आकार 92 मीटर लंबा और 52 से 56 मीटर चौड़ा होता है, दोनों टीमों के लिए इस मैदान को दो बराबर भागों में बाँट दिया जाता है। यह कुल 60 मिनट का खेल होता है।

SubQuestion No : 17

Q.17 उपर्युक्त अपठित गद्यांश के लिए शीर्षक होगा?

- Ans
- A. मैदान में खेला जाने वाला खेल
 - B. ओलंपिक में हॉकी
 - C. भारत में हॉकी
 - D. विश्व विजेता भारत

Question ID : 1034352524

Comprehension:

एक गद्यांश दिया गया है। गद्यांश के आधार पर पाँच प्रश्न दिए गए हैं। गद्यांश को ध्यानपूर्वक पढ़ें तथा प्रत्येक प्रश्न के चार विकल्पों में से सही विकल्प चुने।

जीवन में खेलों का बहुत महत्व है। खेलों से शरीर स्वस्थ और निरोग बनता है। इनके बिना जीवन में नीरसता उत्पन्न हो जाती है।

खेल कई प्रकार के होते हैं। कुछ खेल खुले वातावरण में खेले जाते हैं, तो कई खेल कमरे के अंदर बैठे-बैठे भी खेले जा सकते हैं। लेकिन जो खेल खुले मैदानों में खेले जाते हैं, उनसे हमें कई प्रकार के शारीरिक और मानसिक लाभ मिलते हैं। खुले मैदानों में खेले जाने वाले इन खेलों से मन को प्रोत्साहन और शरीर को स्फूर्ति मिलती है। हॉकी बहुत ही पुराना खेल है, जो आज एक अंतर्राष्ट्रीय खेल के रूप में प्रसिद्ध है। ओलम्पिक में सर्वप्रथम यह खेल सन् 1908 में खेला गया था।

भारत में हॉकी बहुत ही लोकप्रिय है और हॉकी हमारे भारत का राष्ट्रीय खेल है। भारत सर्वप्रथम सन् 1928 में ओलंपिक में पहुंचा था और सन् 1928 से 1956 तक हॉकी के खेल में भारत ने हर ओलंपिक में लगातार 6 स्वर्ण पदक जीते। इस समय को हॉकी के इतिहास में स्वर्ण काल रूप में जाना जाता है। इस खेल में भारतीय खिलाड़ियों ने अपना इतना अच्छा प्रदर्शन दिखाया कि यह हमारा राष्ट्रीय खेल बन गया। भारतीय खिलाड़ी 'मेजर ध्यानचंद' ने हॉकी में काफी नाम कमाया।

इसमें दो टीम होती है और हर टीम में 11-11 खिलाड़ी होते हैं। इस खेल को खेलने के लिए हमें एक हॉकी स्टिक और एक गेंद की ज़रूरत होती है। इस खेल में मैदान का आकार 92 मीटर लंबा और 52 से 56 मीटर चौड़ा होता है, दोनों टीमों के लिए इस मैदान को दो बराबर भागों में बाँट दिया जाता है। यह कुल 60 मिनट का खेल होता है।

SubQuestion No : 18

Q.18 'हॉकी' कैसा खेल है?

- Ans
- A. कमरे में खेला जाने वाला
 - B. खुले मैदान में खेला जाने वाला
 - C. भीड़ में खेला जाने वाला
 - D. बर्फ पर खेला जाने वाला

Question ID : 1034352526

Comprehension:

एक गद्यांश दिया गया है। गद्यांश के आधार पर पाँच प्रश्न दिए गए हैं। गद्यांश को ध्यानपूर्वक पढ़ें तथा प्रत्येक प्रश्न के चार विकल्पों में से सही विकल्प चुने।

जीवन में खेलों का बहुत महत्व है। खेलों से शरीर स्वस्थ और निरोग बनता है। इनके बिना जीवन में नीरसता उत्पन्न हो जाती है।

खेल कई प्रकार के होते हैं। कुछ खेल खुले वातावरण में खेले जाते हैं, तो कई खेल कमरे के अंदर बैठे-बैठे भी खेले जा सकते हैं। लेकिन जो खेल खुले मैदानों में खेले जाते हैं, उनसे हमें कई प्रकार के शारीरिक और मानसिक लाभ मिलते हैं। खुले मैदानों में खेले जाने वाले इन खेलों से मन को प्रोत्साहन और शरीर को स्फूर्ति मिलती है। हॉकी बहुत ही पुराना खेल है, जो आज एक अंतर्राष्ट्रीय खेल के रूप में प्रसिद्ध है। ओलम्पिक में सर्वप्रथम यह खेल सन् 1908 में खेला गया था।

भारत में हॉकी बहुत ही लोकप्रिय है और हॉकी हमारे भारत का राष्ट्रीय खेल है। भारत सर्वप्रथम सन् 1928 में ओलंपिक में पहुंचा था और सन् 1928 से 1956 तक हॉकी के खेल में भारत ने हर ओलंपिक में लगातार 6 स्वर्ण पदक जीते। इस समय को हॉकी के इतिहास में स्वर्ण काल रूप में जाना जाता है। इस खेल में भारतीय खिलाड़ियों ने अपना इतना अच्छा प्रदर्शन दिखाया कि यह हमारा राष्ट्रीय खेल बन गया। भारतीय खिलाड़ी 'मेजर ध्यानचंद' ने हॉकी में काफी नाम कमाया।

इसमें दो टीम होती है और हर टीम में 11-11 खिलाड़ी होते हैं। इस खेल को खेलने के लिए हमें एक हॉकी स्टिक और एक गेंद की ज़रूरत होती है। इस खेल में मैदान का आकार 92 मीटर लंबा और 52 से 56 मीटर चौड़ा होता है, दोनों टीमों के लिए इस मैदान को दो बराबर भागों में बाँट दिया जाता है। यह कुल 60 मिनट का खेल होता है।

SubQuestion No : 19

Q.19 भारत ने ओलंपिक में हॉकी खेल से लगातार कितने स्वर्ण पदक जीते?

Ans A. 8

B. 6

C. 10

D. 7

Question ID : 1034352528

Comprehension:

एक गद्यांश दिया गया है। गद्यांश के आधार पर पाँच प्रश्न दिए गए हैं। गद्यांश को ध्यानपूर्वक पढ़ें तथा प्रत्येक प्रश्न के चार विकल्पों में से सही विकल्प चुने।

जीवन में खेलों का बहुत महत्व है। खेलों से शरीर स्वस्थ और निरोग बनता है। इनके बिना जीवन में नीरसता उत्पन्न हो जाती है।

खेल कई प्रकार के होते हैं। कुछ खेल खुले वातावरण में खेले जाते हैं, तो कई खेल कमरे के अंदर बैठे-बैठे भी खेले जा सकते हैं। लेकिन जो खेल खुले मैदानों में खेले जाते हैं, उनसे हमें कई प्रकार के शारीरिक और मानसिक लाभ मिलते हैं। खुले मैदानों में खेले जाने वाले इन खेलों से मन को प्रोत्साहन और शरीर को स्फूर्ति मिलती है। हॉकी बहुत ही पुराना खेल है, जो आज एक अंतर्राष्ट्रीय खेल के रूप में प्रसिद्ध है। ओलम्पिक में सर्वप्रथम यह खेल सन् 1908 में खेला गया था।

भारत में हॉकी बहुत ही लोकप्रिय है और हॉकी हमारे भारत का राष्ट्रीय खेल है। भारत सर्वप्रथम सन् 1928 में ओलंपिक में पहुंचा था और सन् 1928 से 1956 तक हॉकी के खेल में भारत ने हर ओलंपिक में लगातार 6 स्वर्ण पदक जीते। इस समय को हॉकी के इतिहास में स्वर्ण काल रूप में जाना जाता है। इस खेल में भारतीय खिलाड़ियों ने अपना इतना अच्छा प्रदर्शन दिखाया कि यह हमारा राष्ट्रीय खेल बन गया। भारतीय खिलाड़ी 'मेजर ध्यानचंद' ने हॉकी में काफी नाम कमाया।

इसमें दो टीम होती है और हर टीम में 11-11 खिलाड़ी होते हैं। इस खेल को खेलने के लिए हमें एक हॉकी स्टिक और एक गेंद की ज़रूरत होती है। इस खेल में मैदान का आकार 92 मीटर लंबा और 52 से 56 मीटर चौड़ा होता है, दोनों टीमों के लिए इस मैदान को दो बराबर भागों में बाँट दिया जाता है। यह कुल 60 मिनट का खेल होता है।

SubQuestion No : 20

Q.20 ओलम्पिक में सर्वप्रथम हॉकी खेल किस वर्ष में खेला गया था?

Ans A. सन् 1949

B. सन् 1928

C. सन् 1956

D. सन् 1908

Question ID : 1034352527

Section : Discipline1

- Q.1 बचपन में मनोसामाजिक विकास के संदर्भ में, सहकर्मी संबंधों के सकारात्मक प्रभाव क्या हैं?
 I. जैसे-जैसे बच्चे माता-पिता के प्रभाव से दूर होने लगते हैं, सहकर्मी समूह नए दृष्टिकोण खोलता है और उन्हें स्वतंत्र निर्णय लेने के लिए मुक्त करता है।
 II. कुछ नस्तीय और जातीय समूहों के सदस्य के प्रति प्रतिकूल अभिवृत्ति को सुदृढ़ करने की प्रवृत्ति।

- Ans A. केवल I
 B. केवल II
 C. ना ही I ना ही II
 D. I तथा II दोनों

Question ID : 1034352548

- Q.2 बचपन में शारीरिक विकास के संदर्भ में, मोटर विकास के संदर्भ में निम्नलिखित में से कौन सा कथन सही है?
 I. यह मध्य बचपन में सुधार होना जारी रहता है।
 II. 6 वर्ष की उम्र में, बच्चे दूर से फेंकी गई छोटी गेंदों के रास्ते को आंक और अवरोध कर सकते हैं।

- Ans A. ना ही I ना ही II
 B. I तथा II दोनों
 C. केवल II
 D. केवल I

Question ID : 1034352533

- Q.3 निम्नलिखित में से कौन सा कथन शारीरिक वृद्धि और परिवर्तन का वर्णन करता है?
 I. 1 वर्ष की आयु में, बच्चे अपनी बचकानी गोलाई खोना शुरू कर देते हैं और बचपन के पतले, एथलेटिक रूप को अपना लेते हैं।
 II. 3 वर्ष की आयु में, बच्चों के पेट की मांसपेशियां विकसित होती हैं, बच्चों के पेट की मांसपेशियों को कसती हैं।

- Ans A. ना ही I ना ही II
 B. I तथा II दोनों
 C. केवल II
 D. केवल I

Question ID : 1034352534

- Q.4 _____ स्वयं का वर्णन करने के लिए उपयोग की जाने वाली विशेषताओं का समूह है।

- Ans A. स्व अवधारणा
 B. स्व चिंता
 C. स्व प्रेरणा
 D. स्व परिभाषा

Question ID : 1034352544

- Q.5 Which of the following theorist is not related gender-schema theory?

- Ans A. Carol Lynn
 B. Sandra Bem
 C. Halverson
 D. Sigmund Freud

Question ID : 1034352546

Q.6 शैशवावस्था में उत्तेजना की निम्नलिखित में से कौन सी अवस्था उनकी गति से सही रूप से सुमेलित है?

- I. अनियमित नींद - मांसपेशियां मरोड़ती हैं, लेकिन कोई बड़ी हलचल नहीं होती है।
- II. चेतावनी निष्क्रियता - शांत गति, चारों ओर देखते हुए सिर, अंगों को हिला सकता है।

- Ans
- A. केवल I
 - B. केवल II
 - C. I तथा II दोनों
 - D. ना ही I ना ही II

Question ID : 1034352532

Q.7 _____ शिशु और देखभाल करने वाले के बीच पारस्परिक, स्थायी संबंध है।

- Ans
- A. अनुरक्ति
 - B. सज़ा
 - C. समझौता
 - D. प्रतिस्थापन

Question ID : 1034352542

Q.8 किस प्रक्रिया द्वारा शिशु और देखभालकर्ता एक-दूसरे को भावनात्मक अवस्थाओं का संचार करते हैं और उचित प्रतिक्रिया देते हैं?

- Ans
- A. विशिष्ट विनियमन
 - B. आपसी विनियमन
 - C. पृथक विनियमन
 - D. असंलग्न विनियमन

Question ID : 1034352543

Q.9 प्रारंभिक बाल्यावस्था में संज्ञानात्मक विकास के संदर्भ में, थ्योरी ऑफ माइंड विकास क्या है?

- I. यह मस्तिष्क की परिपक्वता और संज्ञान में सुधार की दर्शाता है।
- II. वंशानुगत और पर्यावरणीय प्रभाव विकास में एक बड़ी भूमिका निभाते हैं।

- Ans
- A. केवल II
 - B. ना ही I ना ही II
 - C. I तथा II दोनों
 - D. केवल I

Question ID : 1034352540

Q.10 मध्य उम्र के बच्चों के विकास के लिए निम्नलिखित में से कौन सी स्मरणीय रणनीति सही है?

- I. 5 और 6 वर्ष के बच्चे बाहरी मेमोरी एड्स कर सकते हैं।
- II. ज्यादातर बच्चे कम से कम 10 वर्ष की आयु तक ग्रुपिंग नहीं करते हैं।
- III. 4 साल की उम्र में सचेत दोहराव अनायास कर सकते हैं।

- Ans
- A. I तथा III
 - B. I तथा II
 - C. II तथा III
 - D. I, II तथा III

Question ID : 1034352541

Q.11 निम्नलिखित में से कौन सा बच्चों के लिए मित्रता का लाभ है?

- I. बच्चे दोस्तों के साथ स्कूल का ज्यादा आनंद लेते हैं।
II. दोस्ती मदद और आत्म-सत्यापन का एक स्रोत है।

- Ans A. केवल II
 B. ना ही I ना ही II
 C. I तथा II दोनों
 D. केवल I

Question ID : 1034352547

Q.12 किशोरावस्था में शारीरिक विकास के संदर्भ में निम्नलिखित में से कौन सा कथन परिपक्वता का वर्णन करता है?

- I. इस प्रक्रिया में आमतौर पर दोनों लिंगों के लिए लगभग चार वर्ष लगते हैं।
II. यौवन के दौरान लड़कों और लड़कियों दोनों में होने वाले शारीरिक परिवर्तनों में किशोरावस्था में संवृद्धि की तीव्रता शामिल है।

- Ans A. ना ही I ना ही II
 B. केवल I
 C. केवल II
 D. I तथा II दोनों

Question ID : 1034352535

Q.13 रफ एंड टम्बल प्ले में _____ शामिल होता है।

- I. कुश्ती
II. मारना
III. पीछा करना

- Ans A. केवल I
 B. I, II तथा III
 C. केवल I तथा II
 D. केवल II तथा III

Question ID : 1034352531

Q.14 According to Piaget, which of the following imitation pair is correctly matched?

- I. Invisible imitation – Imitation using parts of the body that a baby cannot see, such as mouth.
II. Visible imitation – Imitation with parts of the body that baby can see, such as feet and hands.

- Ans A. Both I and II
 B. Neither I nor II
 C. Only II
 D. Only I

Question ID : 1034352537

Q.15 प्रीऑपरेशनल थॉट टी के संदर्भ में, प्रतीकात्मक कार्य क्या है?

- I. प्रतीकों या मानसिक अभ्यावेदन का उपयोग करने की क्षमता।
II. प्रतीक बच्चों को शारीरिक रूप से उपस्थित हुए बिना उन्हें याद रखने और उनके बारे में सोचने में मदद करते हैं।

- Ans A. केवल I
 B. केवल II
 C. ना ही I ना ही II
 D. I तथा II दोनों

Question ID : 1034352539

Q.16 शिशु विकास के बेली स्केल के संदर्भ में, निम्नलिखित में से कौन सा युग्म सही सुमेित है?

I. 3 महीने - पीछे से मुड़ता है।

II. 9 महीने - खुद को खड़े होने की स्थिति में उठाता है।

Ans A. I तथा II दोनों

B. ना ही I ना ही II

C. केवल I

D. केवल II

Question ID : 1034352538

Q.17 जन्म आघात क्या होता है?

Ans A. जन्म के समय लगी चोट

B. जन्म के 5 दिनों के भीतर लगी चोट

C. जन्म के 2 दिनों के भीतर लगी चोट

D. जन्म के 15 दिनों के भीतर लगी चोट

Question ID : 1034352530

Q.18 How many stages are there in childbirth?

Ans A. Four

B. Three

C. Five

D. Two

Question ID : 1034352529

Q.19 लिंग स्थिरता क्या है?

I. अपने लिंग हमेशा समान रहने के बारे में बच्चे की जागरूकता।

II. इसे लिंग-श्रेणी की स्थिरता भी कहा जाता है।

Ans A. I तथा II दोनों

B. ना ही I ना ही II

C. केवल II

D. केवल I

Question ID : 1034352545

Q.20 _____ seeks to measure quantitative differences in cognitive abilities by using tests that indicate or predict cognitive abilities.

Ans A. Piagetian approach

B. Bayley approach

C. Psychometric approach

D. Behaviorist approach

Question ID : 1034352536

Section : Discipline2

Q.1 The law of exercise is among the three laws of learning. Who developed these laws?

- Ans A. E.L Thorndike
 B. Sigmund Freud
 C. Jean Piaget
 D. Rabindranath Tagore

Question ID : 1034352562

Q.2 निम्नलिखित में से कौन सी मानसिक स्वास्थ्य उपचार तकनीक सही सुमेलित है?

- I. व्यक्तिगत मनोचिकित्सा - उपचार जिसमें एक चिकित्सक एक परेशान व्यक्ति को आमने-सामने देखता है।
 II. पारिवारिक चिकित्सा - उपचार जिसमें एक चिकित्सक परिवार के कामकाज के पैटर्न का विश्लेषण करने के लिए पूरे परिवार को एक साथ देखता है।
 III. व्यवहार चिकित्सा - उपचार जिसमें एक बच्चा स्वतंत्र रूप से खेलता है जबकि एक चिकित्सक देखता है और कभी-कभी टिप्पणी करता है, पूछता है, सवाल करता है या सुझाव देता है।

- Ans A. I तथा II
 B. II तथा III
 C. I, II तथा III
 D. I तथा III

Question ID : 1034352549

Q.3 निम्नलिखित में से कौन सा भारतीय संविधान में मूल अधिकार नहीं है?

- Ans A. संपत्ति का अधिकार
 B. समता का अधिकार
 C. धर्म की स्वतंत्रता का अधिकार
 D. स्वातंत्र्य अधिकार

Question ID : 1034352552

Q.4 According to Kolb's Model, on the basis of grasping experience the learning style can be _____.
 I. diverging
 II. assimilating

- Ans A. Both I and II
 B. Only I
 C. Only II
 D. Neither I nor II

Question ID : 1034352563

Q.5 जीन-जैक्स रूसो ने अपनी पुस्तक 'एमिल' में नैतिक विकास की त्रि-चरणीय योजना को जोड़ा। इन चरणों के संदर्भ में निम्नलिखित में से कौन सा कथन सही है?

- I. शैशवावस्था और बचपन में शिष्य पर आवश्यकता का शासन होना चाहिए।
 II. बचपन और यौवन के बीच शिष्य पर उपयोगिता का शासन होना चाहिए।

- Ans A. I तथा II दोनों
 B. केवल II
 C. केवल I
 D. ना ही I ना ही II

Question ID : 1034352566

Q.6 नवजात-शिशु की संवेदी क्षमताओं के संदर्भ में निम्नलिखित में से कौन सा सही है?

- I. जन्म से पहले श्रवण कार्यात्मक होता है।
II. जन्म के समय दृष्टि सबसे कम विकसित इंद्रि होती है।

- Ans A. I तथा II दोनों
 B. केवल II
 C. केवल I
 D. ना ही I ना ही II

Question ID : 1034352560

Q.7 _____ महिलाओं और पुरुषों के गुणों के बारे में अक्सर बिना किसी आधार के विश्वासों और अपेक्षाओं का एक साझा लोकप्रिय समूह है।

- Ans A. स्व स्टीरियोटाइप
 B. आयु स्टीरियोटाइप
 C. धार्मिक स्टीरियोटाइप
 D. लिंग स्टीरियोटाइप

Question ID : 1034352556

Q.8 1994 में किस शहर में प्लेग का प्रकोप था?

- Ans A. कोलकाता
 B. सूरत
 C. मुंबई
 D. दिल्ली

Question ID : 1034352550

Q.9 बार-बार पलक झपकना किस दुर्बलता का लक्षण हो सकता है?

- Ans A. दृश्य बाधा
 B. श्रवण बाधा
 C. वाक् बाधा
 D. सीखने की बाधा

Question ID : 1034352558

Q.10 निम्नलिखित में से कौन सा कथन सरकार को कर का भुगतान करने का सही कारण बताता है?

- I. सरकार द्वारा रक्षा, पार्क, सब्सिडी जैसी सार्वजनिक सेवाएं प्रदान करने के लिए।
II. प्राकृतिक आपदाओं के बाद लोगों के पुनर्वास के लिए इसका उपयोग करना

- Ans A. केवल II
 B. ना ही I ना ही II
 C. केवल I
 D. I तथा II दोनों

Question ID : 1034352554

Q.11 निम्नलिखित में से कौन सी नीति लैंगिक असमानता के लंबे इतिहास को मान्यता देती है जब यह कहती है कि लैंगिक असमानता 'अतीत की संचयी विकृति' है?

- Ans A. राष्ट्रीय शिक्षा नीति 2020
 B. कोठारी आयोग (1964-1966)
 C. शिक्षा पर राष्ट्रीय नीति 1986
 D. विश्वविद्यालय शिक्षा आयोग (1942-1949)

Question ID : 1034352557

Q.12 पूर्व - स्वतंत्रता - भारत में, 'एक्ट - वर्ष' का निम्नलिखित में से कौन सा युग्म सही है?

- I. आर्म्स एक्ट - 1878
- II. वर्नाक्युलर प्रेस एक्ट- 1879
- III. इल्बर्ट बिल - 1890

- Ans
- A. I तथा III
 - B. I तथा II
 - C. II तथा III
 - D. केवल I

Question ID : 1034352553

Q.13 भारत में समावेशी शिक्षा को लागू करने में क्या चुनौतियाँ हैं?

- I. भारत में विकलांग व्यक्ति के लिए कोई पॉलिसी नहीं है।
- II. समावेशी शिक्षा प्राप्त करने का मार्ग लंबा और विविध है।

- Ans
- A. केवल I
 - B. ना ही I ना ही II
 - C. I तथा II दोनों
 - D. केवल II

Question ID : 1034352561

Q.14 भारत में समावेशी शिक्षा के संदर्भ में निम्नलिखित में से कौन सा कथन सही है?

- I. 2005 में, मानव संसाधन विकास मंत्रालय ने विकलांग बच्चों और युवाओं की शिक्षा में शामिल करने के लिए एक राष्ट्रीय कार्य योजना लागू की।
- II. शिक्षा का अधिकार अधिनियम 2009 सभी बच्चों को उनकी जाति, धर्म, क्षमता आदि के बावजूद शिक्षा सुनिश्चित करता है।

- Ans
- A. केवल II
 - B. ना ही I ना ही II
 - C. I तथा II दोनों
 - D. केवल I

Question ID : 1034352559

Q.15 Which of the following statement is NOT correct regarding the learner – centered approach of teaching?

- Ans
- A. Active learning is practiced
 - B. Learning by doing is the base
 - C. Performance indicates mastery of learning objectives
 - D. Students learn passively by listening and reading

Question ID : 1034352567

Q.16 वोट के लिए महिलाओं का संघर्ष प्रथम विश्व युद्ध के दौरान मजबूत हुआ। इस आंदोलन को _____ कहा जाता है।

- I. महिला मताधिकार आंदोलन
- II. यूनिवर्सल एडल्ट फ्रेंचाइज़

- Ans
- A. केवल I
 - B. ना ही I ना ही II
 - C. I तथा II दोनों
 - D. केवल II

Question ID : 1034352551

Q.17 नि: शुल्क और अनिवार्य शिक्षा अधिनियम, 2009 के लिए बच्चों के अधिकार में स्थानीय प्राधिकरण के कर्तव्यों के संदर्भ में निम्नलिखित में से कौन सा कथन सही नहीं है?

- I. प्रवेश के लिए कैपिटेशन शुल्क लें।
- II. शिक्षकों के लिए प्रशिक्षण सुविधा प्रदान करना।
- III. शैक्षणिक कैलेंडर तय करें।

- Ans
- A. II तथा III
 - B. केवल I
 - C. I तथा II
 - D. I तथा III

Question ID : 1034352555

Q.18 छात्रों को एक प्रयोग का प्रदर्शन करते समय निम्नलिखित में से किस बैठने की व्यवस्था का उपयोग किया जाना चाहिए?

- I. शिक्षक के सामने आधे घेरे में बैठे छात्र।
- II. कक्षा में पंक्तियों में बैठे विद्यार्थी और शिक्षक स्वयं को विद्यार्थियों के सामने खड़ा रखते हैं।

- Ans
- A. I तथा II दोनों
 - B. केवल I
 - C. ना ही I ना ही II
 - D. केवल II

Question ID : 1034352568

Q.19 Which of the following features are involved in the problem-solving method of learning?

- I. A goal to be reached.
- II. Challenging the felt difficulty through conscious, planned and purposeful attack.

- Ans
- A. Only II
 - B. Only I
 - C. Both I and II
 - D. Neither I nor II

Question ID : 1034352564

Q.20 दी गई पंक्तियों को पढ़िए और सही शैक्षिक विचारक की पहचान कीजिए।

उन्होंने स्कूल के सामाजिक और नैतिक स्वरूप पर जोर दिया। उनका मानना था कि एक स्कूल को 'लघु समुदाय, एक भ्रूण समाज' के रूप में कार्य करना चाहिए।

- Ans
- A. रुडोल्फ स्टेनर
 - B. जॉन ड्यूई
 - C. अल्फ्रेड बिने
 - D. रविंद्रनाथ टैगोर

Question ID : 1034352565

Section : Discipline3

Q.1 प्याजे की संज्ञानात्मक विकास की निम्नलिखित में से कौन सी अवस्था सही सुमेलित है?

- I. सेंसरिमोटर - इंटेलीजेंस संबंधित मोटर गतिविधियां
- II. कंक्रीट ऑपरेशन - प्रस्तावक सोच

- Ans
- A. ना ही I ना ही II
 - B. I तथा II दोनों
 - C. केवल I
 - D. केवल II

Question ID : 1034352575

Q.2 निम्नलिखित में से कौन सा अधिगम की हियूरिस्टिक पद्धति से संबंधित है?

- Ans A. समस्या समाधान विधि
 B. प्रदर्शन विधि
 C. अन्वेषण विधि
 D. खेल कूद विधि

Question ID : 1034352576

Q.3 जब बच्चे 'सुनें और पहचानें' गतिविधियाँ करते हैं तो वे _____ होते हैं।

- I. एक बुनियादी भाषा कौशल-सुनने का अभ्यास कर रहे
 II. अपनी शब्दावली का विकास कर रहे

- Ans A. केवल I
 B. ना ही I ना ही II
 C. केवल II
 D. I तथा II दोनों

Question ID : 1034352577

Q.4 In which tools the student can get nearly direct experience of a real situation?

- Ans A. Communicative Tools
 B. Constructive Tools
 C. Situating Tools
 D. Informative Tools

Question ID : 1034352571

Q.5 समस्या समाधान के सन्दर्भ में शिक्षक की निम्नलिखित में से कौन सी भूमिका है?

- I. समस्या की स्थिति बनाएं।
 II. कक्षा में भयमुक्त वातावरण बनाएं।
 III. समस्या को समझने, परिभाषित करने और उसे बताने में छात्र की सहायता करें।

- Ans A. I, II तथा III
 B. II तथा III
 C. I तथा II
 D. I तथा III

Question ID : 1034352574

Q.6 Which of the following statement is correct?

- I. Formula for calculating an approximate value of mode in a perfectly symmetrical distribution is: $\text{Mode} = 3 \times \text{Median} + 2 \times \text{Mean}$.
 II. Range is the difference between the largest and the smallest observation in the data.

- Ans A. Only II
 B. Only I
 C. Neither I nor II
 D. Both I and II

Question ID : 1034352583

- Q.7 हिन्दी का प्रकार - विवरण का निम्नलिखित में से कौन सा युग्म सही है?
 I. खड़ी बोली - हिंदी के इस रूप को वर्तमान में मानक हिंदी माना जाता है।
 II. हिन्दुस्तानी - इसमें हिंदी तथा उर्दू दोनों रूप शामिल हैं।

Ans A. केवल I
 B. ना ही I ना ही II
 C. केवल II
 D. I तथा II दोनों

Question ID : 1034352579

- Q.8 प्राथमिक स्तर पर पर्यावरण अध्ययन अधिगम से बच्चों को निम्नलिखित में से किसके विकास को बढ़ावा मिलता है?

- I. उनकी टिप्पणियों और विचारों का वर्णन और संचार करने के लिए एक भाषा।
 II. अपने पर्यावरण के बारे में जानने और समस्या के समाधान खोजने के लिए आवश्यक कौशल।

Ans A. I तथा II दोनों
 B. ना ही I ना ही II
 C. केवल II
 D. केवल I

Question ID : 1034352588

- Q.9 Which of the following is NOT the use of ICT Tools in learning?
 I. Creating the learning situation in classroom
 II. Collecting information and disseminating among the peers

Ans A. Both I and II
 B. Only I
 C. Neither I nor II
 D. Only II

Question ID : 1034352572

- Q.10 निम्नलिखित में से कौन सा समाचार पत्र भारत का पहला हिंदी समाचार पत्र था?

Ans A. आनंदबाजार पत्रिका
 B. केसरी
 C. तरुण भारती
 D. उदंत मातरंद

Question ID : 1034352581

- Q.11 What is the nature of mathematics learning at the early stage of schooling?
 I. Children's initial understanding of mathematics is 'concrete' and contextual.
 II. Active Manipulation with concrete elements leads children to construct mathematical concepts and processes.

Ans A. Only II
 B. Neither I nor II
 C. Only I
 D. Both I and II

Question ID : 1034352585

Q.12 निम्नलिखित में से कौन सी भाषा मुंडा परिवार से संबंधित है?

- I. मुंडारी
II. संथाली

Ans A. I तथा II दोनों
 B. केवल I
 C. ना ही I ना ही II
 D. केवल II

Question ID : 1034352578

Q.13 _____ को शिक्षण की कई तकनीकों को विकसित करने में लागू किया गया है।

Ans A. अक्षम अनुकूलन
 B. शास्त्रीय अनुकूलन
 C. अवलोकन अनुकूलन
 D. संक्रिया अनुकूलन

Question ID : 1034352573

Q.14 आप वास्तव में अपने राज्य या क्षेत्र में पर्यावरण को कुछ स्थायी नुकसान देख सकते हैं। निम्नलिखित में से वह नुकसान कौन से हैं?

- I. समृद्ध ऊपरी मिट्टी नदी में बह जाती है और नदी के तल में जमा हो जाती है जिसके परिणामस्वरूप बाढ़ आती है।
II. पौधों और जानवरों की प्रजातियों की समृद्ध और रोमांचक विविधता मर गई है और स्थायी रूप से हमारे लिए खो गई है।

Ans A. केवल II
 B. ना ही I ना ही II
 C. I तथा II दोनों
 D. केवल I

Question ID : 1034352587

Q.15 छात्रों को विषम योग्यता से समूहित करना _____ हो सकता है।

- I. छात्रों को अन्य छात्रों को धीमा या उन्नत के रूप में लेबल करने से रोकने में मदद कर
II. केवल मेधावी छात्रों के प्रदर्शन और प्रगति को प्रभावित करते हैं।

Ans A. केवल I
 B. I तथा II दोनों
 C. केवल II
 D. ना ही I ना ही II

Question ID : 1034352569

Q.16 पर्यावरण अध्ययन _____ एक मिश्रण है।

- I. पारंपरिक विज्ञान
II. सामाजिक मूल्य
III. पर्यावरण के प्रति जागरूकता

Ans A. I तथा III
 B. I, II तथा III
 C. केवल III
 D. II तथा III

Question ID : 1034352586

Q.17 उस उपकरण का नाम बताइए जो कंप्यूटर में निर्देशों को इन्टरप्रेट और एक्सीक्यूट करता है?

- Ans A. ए. एल. यु.
 B. सि. यु.
 C. केश
 D. सी. पी. यू.

Question ID : 1034352570

Q.18

$$L_m + \left(\frac{n}{2} - F \right) \times \frac{i}{f_m}$$

माध्यक परिकलित करने का सूत्र है। निम्नलिखित में से कौन सा कथन

सही नहीं है?

- I. i = वर्ग अंतराल की लंबाई।
 II. L_m = उस वर्ग अंतराल की ठीक निचली सीमा जिसमें माध्यक स्थित होता है।
 III. $F = L_m$ से नीचे की कुल आवृत्ति।

- Ans A. केवल III
 B. II तथा III
 C. ना ही I ना ही II ना ही III
 D. I, II तथा III

Question ID : 1034352584

Q.19 गणित अधिगम में निम्नलिखित में से कौन सी स्व-मूल्यांकन की तकनीक है?

- I. छानबीन
 II. तुलना

- Ans A. ना ही I ना ही II
 B. केवल I
 C. केवल II
 D. I तथा II दोनों

Question ID : 1034352582

Q.20 निम्नलिखित में से कौन सा कवि उनके साहित्य से सही सुमेलित है?

- I. तुलसीदास - रामचरितमानस
 II. जायसी - गीतावाली

- Ans A. I तथा II दोनों
 B. केवल II
 C. ना ही I ना ही II
 D. केवल I

Question ID : 1034352580

Section : Discipline4

Q.1 2005 में किशोरावस्था शिक्षा कार्यक्रम (ए.ई.पी.) द्वारा शुरू किया गया था।

- Ans A. महिला एवं बाल विकास मंत्रालय
 B. बाल अधिकारों के संरक्षण के लिए राष्ट्रीय आयोग
 C. मानव संसाधन विकास मंत्रालय
 D. राष्ट्रीय कंपनी कानून न्यायाधिकरण

Question ID : 1034352602

Q.2 भारतीय संविधान के राज्य की नीति के निर्देशक नीति के तहत निम्नलिखित में से कौन सा अनुच्छेद सीधे बच्चों से संबंधित नहीं है?

- Ans
- A. अनुच्छेद 41
 - B. अनुच्छेद 47
 - C. अनुच्छेद 42
 - D. अनुच्छेद 48

Question ID : 1034352603

Q.3 _____ एक गैर-संचारी रोग है।

- Ans
- A. खसरा
 - B. मम्पस
 - C. खांसी
 - D. दिल का दौरा

Question ID : 1034352607

Q.4 The 'Vanishing Adolescent' is the work of _____.

- Ans
- A. Albert Bandura
 - B. Allison Davis
 - C. Kurt Lewin
 - D. Edgar Z. Friedenberg

Question ID : 1034352600

Q.5 विद्यालयों में बैठने की व्यवस्था के संदर्भ में निम्नलिखित में से किन बातों का ध्यान रखना चाहिए?

- I. विशेष आवश्यकता वाले बच्चों को दरवाजे के पास बैठना चाहिए।
- II. कार्य लिखते समय बच्चों को बोर्ड का स्पष्ट दृष्टिकोण होना चाहिए।
- III. कला प्रदर्शन करते समय बच्चों को पर्याप्त जगह दी जानी चाहिए।

- Ans
- A. केवल III
 - B. I, II तथा III
 - C. केवल II
 - D. I तथा II

Question ID : 1034352606

Q.6 कोहलबर्ग के नैतिक तर्क के सिद्धांत के संदर्भ में निम्नलिखित में से कौन सा कथन सही है?

- I. नैतिक तर्ककर्ता न्यायोचित सिद्धांतों के अनुसार कार्य करने के मामले में नैतिकता का संरक्षण करता है।
- II. उनका सिद्धांत लिंग भेद से मुक्त था।

- Ans
- A. केवल I
 - B. ना ही I ना ही II
 - C. केवल II
 - D. I तथा II दोनों

Question ID : 1034352605

- Q.7 भारत माता पेंटिंग के संदर्भ में निम्नलिखित में से कौन सा कथन सही है?
 I. इसे रवींद्रनाथ टैगोर द्वारा चित्रित किया गया है।
 II. इसे 1905 में बंगाल विभाजन के खिलाफ प्रतिक्रिया के रूप में चित्रित किया गया था।

Ans A. केवल II
 B. ना ही I ना ही II
 C. केवल I
 D. I तथा II दोनों

Question ID : 1034352596

- Q.8 खेलने से बच्चे के संज्ञानात्मक विकास में कैसे मदद मिलती है?
 I. खेलना कई चीजें सीखने का अवसर प्रदान करता है।
 II. खेल स्मृति को विकसित करने और विकल्पों का विश्लेषण करने, तर्क करने और सोचने की क्षमता विकसित करने में भी मदद करता है।

Ans A. ना ही I ना ही II
 B. केवल II
 C. केवल I
 D. I तथा II दोनों

Question ID : 1034352599

- Q.9 सामाजिक विज्ञान के औपनिवेशिक परिप्रेक्ष्य के संदर्भ में निम्नलिखित में से कौन सा कथन सही है?
 I. भारत में औपनिवेशिक काल ने सामाजिक विज्ञान पाठ्यचार्य के विकास में बहुत योगदान दिया है।
 II. अंग्रेज ही थे जिन्होंने भारत का इतिहास पहली बार लिखा।

Ans A. केवल II
 B. I तथा II दोनों
 C. केवल I
 D. ना ही I ना ही II

Question ID : 1034352593

- Q.10 पर्यावरण अध्ययन में सहकारी अधिगम के सिद्धांत क्या हैं?
 I. सकारात्मक रूप से एक दुसरे पर निर्भरता
 II. समान स्तर पर सहक्रियाएं
 III. व्यक्तिगत जिम्मेदारी

Ans A. I, II तथा III
 B. I तथा III
 C. केवल III
 D. II तथा III

Question ID : 1034352590

- Q.11 योग का अर्थ विभिन्न व्यक्तियों के लिए विभिन्न हो सकता है। निम्नलिखित में से कौन सा कथन दिए गए कथन को संतुष्ट करता है?
 I. यह शरीर को बीमारियों और विकारों से मुक्त रखने का एक तरीका है।
 II. इसमें ध्यान के माध्यम से विश्राम का अभ्यास शामिल है।
 III. यह शांतिपूर्ण जीवन जीने का एक तरीका है।

Ans A. केवल III
 B. केवल II
 C. I तथा III
 D. I, II तथा III

Question ID : 1034352597

Q.12 Which of the following subjects are included in the present social science curriculum of CBSE for upper primary school level?

- I. History
- II. Geography
- III. Social and political life (SPL)

- Ans
- A. II and III
 - B. I and II
 - C. I, II and III
 - D. I and III

Question ID : 1034352592

Q.13 कौन सी कला मुख्य रूप से विविध सामुदायिक समूहों के पारंपरिक कला रूपों को दर्शाती है?

- Ans
- A. क्षेत्रीय कला
 - B. अमूर्त कला
 - C. सुलेख कला
 - D. वैचारिक कला

Question ID : 1034352594

Q.14 किशोरों पर यौवन के मनोवैज्ञानिक प्रभाव के संदर्भ में निम्नलिखित में से कौन सा कथन सही है?

- I. शारीरिक विकास की विशेषताएं सामाजिक विकास को प्रभावित करती पाई जाती हैं।
- II. पतला रहने और आकर्षक दिखने की प्रेरणा किशोर लड़कियों की प्रमुख चिंता है।

- Ans
- A. I तथा II दोनों
 - B. ना ही I ना ही II
 - C. केवल II
 - D. केवल I

Question ID : 1034352604

Q.15 Rhythm, design, movement and expression are the essential element of which art form?

- Ans
- A. Painting
 - B. Architecture
 - C. Dance
 - D. Music

Question ID : 1034352595

Q.16 Which of the following is a stage of organizing an Environmental studies activity?

- I. Evaluating the performance
- II. Planning
- III. Not reflecting on the process
- IV. Conducting the activity

- Ans
- A. I, II, III and IV
 - B. I, II and IV
 - C. II and IV
 - D. I and II

Question ID : 1034352589

Q.17 अक्टूबर 1937 में वर्धा में आयोजित अखिल भारतीय राष्ट्रीय शिक्षा सम्मेलन में शिक्षा की योजना किसने रखी थी?

- Ans A. सुभाष चंद्र बोस
 B. महात्मा गांधी
 C. गोपाल कृष्ण गोखले
 D. जवाहर लाल नेहरू

Question ID : 1034352591

Q.18 Who among the following promoted school gardens?

- I. Montessori
 II. Dewey
 III. Rousseau

- Ans A. I, II and III
 B. II and III
 C. Only III
 D. Only I

Question ID : 1034352598

Q.19 पोषक तत्वों और उसके स्रोतों का निम्नलिखित में से कौन सा संयोजन सही नहीं है?

- Ans A. प्रोटीन - दालें
 B. वसा - मक्खन
 C. कार्बोहाइड्रेट - चीनी
 D. प्रोटीन - चावल

Question ID : 1034352608

Q.20 यौवन के दौरान वृद्धि में _____ शामिल होता है।

- I. ऊंचाई और वजन में तेजी से वृद्धि
 II. आंतरिक अंगों के आकार में परिवर्तन

- Ans A. ना ही I ना ही II
 B. केवल II
 C. I तथा II दोनों
 D. केवल I

Question ID : 1034352601

Section : Discipline5

Q.1 The education processes are enriched by bringing _____ closer.

- I. Parents
 II. Teachers

- Ans A. Only II
 B. Neither I nor II
 C. Both I and II
 D. Only I

Question ID : 1034352614

- Q.2 युद्ध के संदर्भ में, निम्नलिखित में से कौन सा कथन सही है?
 I. यह लोगों के रोजमर्रा के जीवन का दर्शनीय और खूनी प्रक्षेपण है।
 II. लोग अपने दैनिक जीवन से और अपने आप में परिवर्तन के बिना युद्ध की शुरुआत करते हैं।

- Ans A. I तथा II दोनों
 B. केवल I
 C. केवल II
 D. ना ही I ना ही II

Question ID : 1034352618

- Q.3 आर.टी.ई. अधिनियम 2009 के किस अनुच्छेद के तहत स्कूल प्रबंधन समिति के गठन करने के लिए प्रावधान बनाया गया है?

- Ans A. अनुच्छेद 20
 B. अनुच्छेद 23
 C. अनुच्छेद 22
 D. अनुच्छेद 21

Question ID : 1034352626

- Q.4 'प्रथम' के संदर्भ में, निम्नलिखित में से कौन सा कथन सही है?
 I. इसकी स्थापना 1994 में हुई थी।
 II. इसकी स्थापना दिल्ली की झुग्गी झोपड़ी में रहने वाले बच्चों को शिक्षा प्रदान करने के लिए हुई थी।

- Ans A. I तथा II दोनों
 B. केवल I
 C. केवल II
 D. ना ही I ना ही II

Question ID : 1034352627

- Q.5 सर्व शिक्षा अभियान किस वर्ष में शुरू किया गया था?

- Ans A. 2003
 B. 2002
 C. 2000
 D. 2001

Question ID : 1034352619

- Q.6 सामुदायिक संचालन के संदर्भ में, पी.टी.ए. का पूर्ण रूप क्या है?

- Ans A. पैरेंट टीचर एसोसिएशन
 B. पैरेंट टीचर एक्ट
 C. पियर टीचर एसोसिएशन
 D. पियर टीचर एक्ट

Question ID : 1034352625

Q.7 Which of the following models is correctly matched in the context of in-service training of teachers?

- I. Cascade model – At first level key resource persons are trained, they train resource persons and they in turn train teachers.
II. Distance education model – Institution using direct face to face classroom teaching of teachers.

Ans A. Only I

B. Neither I nor II

C. Both I and II

D. Only II

Question ID : 1034352624

Q.8 पैर के अंगूठे पर उठकर, पंजों पर सीढ़ियां चढ़ने, रस्सी कूदने और साइकिल चलाने से _____ को ठीक किया जा सकता है।

Ans A. कुब्जता

B. पार्श्वकुब्जता

C. अग्रकुब्जता

D. सपाट पैर

Question ID : 1034352609

Q.9 Which of the following is correct regarding teaching as a profession?

I. It involves specialized skills and training and is not mere regurgitation of subject content.

II. It involves code of ethics which are essential for success of the profession.

Ans A. Only II

B. Both I and II

C. Neither I nor II

D. Only I

Question ID : 1034352621

Q.10 लक्ष्य प्राप्त करने के लिए शिक्षार्थी किस शिक्षण पद्धति में व्यावहारिक रूप से कार्य करता है?

Ans A. प्रोजेक्ट विधि

B. वर्कशीट विधि

C. प्रदर्शन विधि

D. व्यावहारिक विधि

Question ID : 1034352611

Q.11 _____ प्रश्न की एक सूची है जिसे छात्रों या शिक्षकों द्वारा पूरा किया जाता है।

Ans A. इंतिहान

B. प्रश्नावली

C. संबन्धी रिकॉर्ड

D. भाषण

Question ID : 1034352612

Q.12 किस प्रकार के नेतृत्व में, नेता जब भी संभव हो निर्णयों को स्थगित रखता है?

- Ans A. प्रजातांत्रिक नेतृत्व
 B. सुस्त नेतृत्व
 C. निरंकुश नेतृत्व
 D. लाईसेज़ निष्पक्ष नेतृत्व

Question ID : 1034352623

Q.13 _____ में भ्रम पैदा करने की शक्ति है।

- Ans A. हृदय
 B. दिमाग
 C. फेफड़े
 D. गुर्दा

Question ID : 1034352616

Q.14 निम्नलिखित में से कौन सा कथन कार्य शिक्षा के कम महत्व का वैध कारण है?

- I. गणित और विज्ञान जैसे अन्य विषयों को विशाल पाठ्यक्रम के कारण अधिक समय की आवश्यकता होती है।
 II. शिक्षकों के साथ-साथ अभिभावकों का रवैया भी कार्य शिक्षा के प्रति अधिक निराशाजनक है।

- Ans A. I तथा II दोनों
 B. ना ही I ना ही II
 C. केवल I
 D. केवल II

Question ID : 1034352613

Q.15 In the context of right education, which of the following statement is NOT correct?

- I. It helps in the development of the capacities of student.
 II. Student can understand their highest interest.

- Ans A. Only II
 B. Neither I nor II
 C. Both I and II
 D. Only I

Question ID : 1034352617

Q.16 Which of the following is the basic point for the selection of an activity?

- I. Physical and mental capacity
 II. Socio-economic background
 III. Students interest
 IV. Parents and classmate attitude

- Ans A. I, II, III and IV
 B. I, II and III
 C. Only I
 D. I and II

Question ID : 1034352615

Q.17 How can community participation improve education management?

- I. Ensuring the regular attendance.
- II. Identifying out of school students.
- III. Monitoring teacher attendance.

- Ans
- A. I and II
 - B. I and III
 - C. II and III
 - D. I, II and III

Question ID : 1034352620

Q.18 शारीरिक शिक्षा कार्यक्रम का वह परिणाम है, जिसका उद्देश्य स्मृति, निर्णय लेने और तर्क शक्ति का विकास करना है।

- Ans
- A. सामाजिक रूप से कुशल
 - B. शारीरिक रूप से फिट
 - C. मानसिक रूप से मजबूत
 - D. भावनात्मक रूप से संतुलित

Question ID : 1034352610

Q.19 "इस देश में लोग शिक्षा को एक ऐसा पेशा मानने में देरी कर रहे हैं जिसके लिए गहन तैयारी की आवश्यकता है" किस आयोग द्वारा व्यक्त किया गया था?

- Ans
- A. विश्वविद्यालय शिक्षा आयोग
 - B. शिक्षा आयोग
 - C. राष्ट्रीय ज्ञान आयोग
 - D. माध्यमिक शिक्षा आयोग

Question ID : 1034352622

Q.20 सामुदाय संचालक के संदर्भ में निम्नलिखित में से कौन सा कथन सही है?

- I. सामुदाय संचालक एक ऐसा व्यक्ति है जो सामुदायिक भागीदारी को बढ़ाता है।
- II. एक शिक्षक एक प्रभावी सामुदायिक संचालक हो सकता है और वह विद्यार्थियों के अधिगम तथा उपलब्धि को बढ़ाने के लिए उपलब्ध संसाधनों का अधिकतम उपयोग कर सकता है।

- Ans
- A. ना ही I ना ही II
 - B. केवल I
 - C. I तथा II दोनों
 - D. केवल II

Question ID : 1034352628